

$$\begin{array}{r} ٦٥ \\ ٦٤ \\ \hline \end{array} +$$

$$\begin{array}{r} ٥٣ \\ ٤٦ \\ \hline \end{array} +$$

$$\begin{array}{r} ٦٥ \\ ٣٤ \\ \hline \end{array} +$$

$$\begin{array}{r} ٤٥ \\ ٤٤ \\ \hline \end{array} +$$

$$\begin{array}{r} ٥٥ \\ ١٦ \\ \hline \end{array} +$$

$$\begin{array}{r} ٧٣ \\ ١٥ \\ \hline \end{array} +$$

$$\begin{array}{r} ٣٦ \\ ١٣ \\ \hline \end{array} +$$

$$\begin{array}{r} ٥١ \\ ١٦ \\ \hline \end{array} +$$

$$\begin{array}{r} ٤١ \\ ٦٧ \\ \hline \end{array} +$$

أجمع.. ثم أكتب الناتج



○ = ٣ آحاد








○ = ٩ عشرات

○ = ٤ آحاد

○ = ٧ عشرات

○ = ٥ عشرات

أكتب القيمة العددية



اجمع .. ثم أكتب الناتج



$$= ٣ + ٩$$



$$= ٣ + ٧$$




$$= ٦ + ٤$$



$$= ٤ + ١٠$$



$$= ٠ + ٦$$



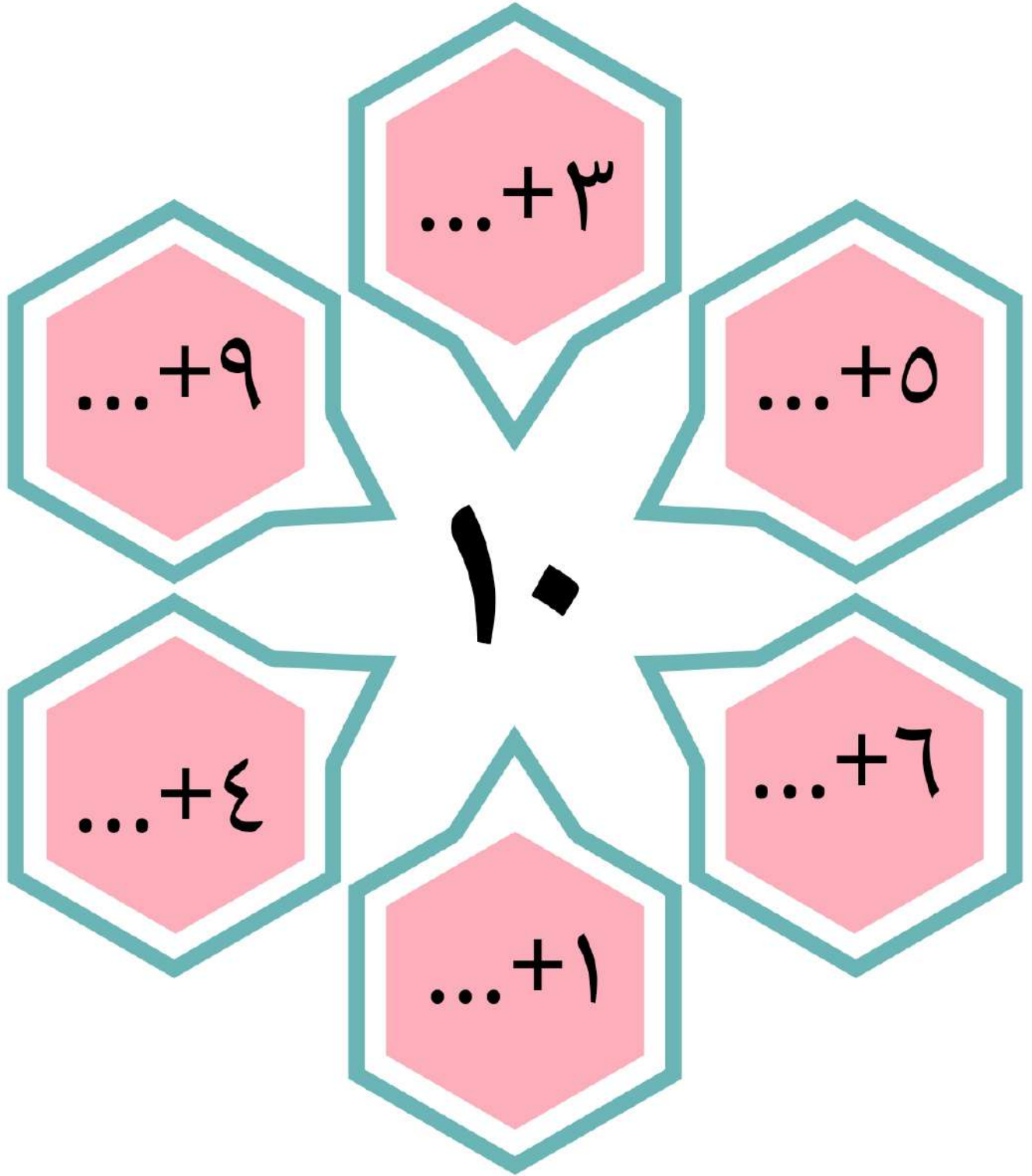
$$= ١ + ٩$$



$$= ٠ + ١٠$$

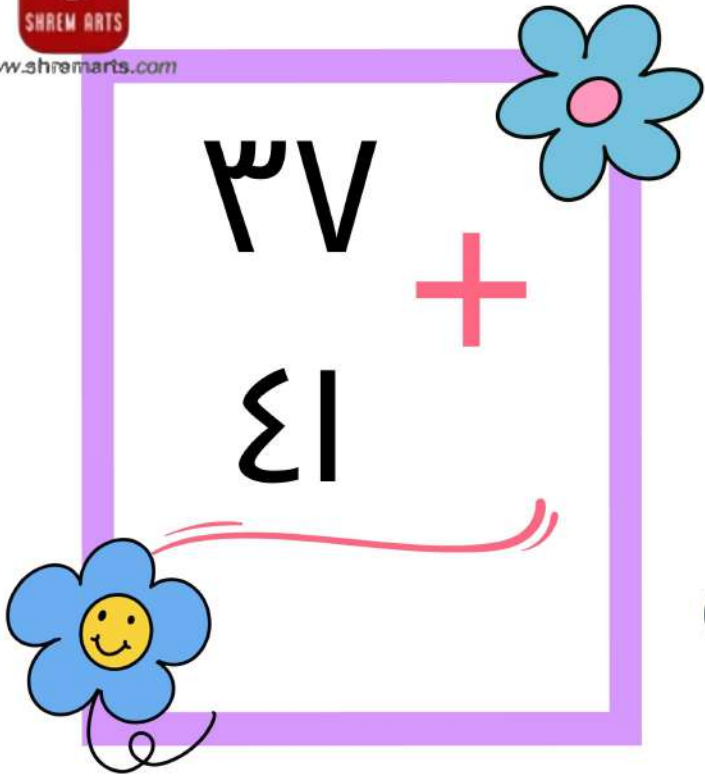
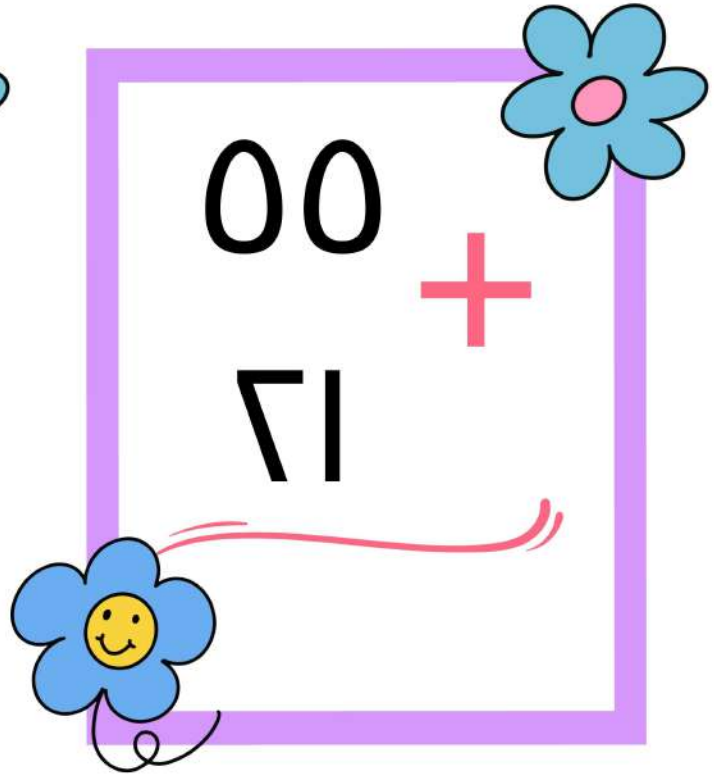
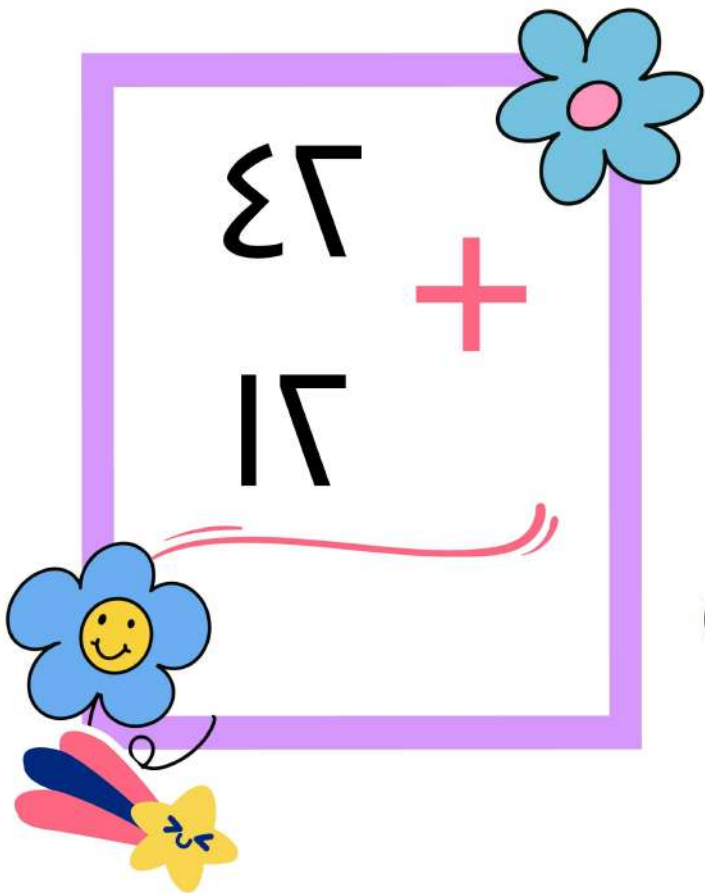

اجمع .. ثم أكتب الناتج





أكتب العمليات الحسابية للعدد ١٠




$$\begin{array}{r} ٣٧ \\ + \\ ٤١ \\ \hline \end{array}$$

$$\begin{array}{r} ٥٥ \\ + \\ ٦١ \\ \hline \end{array}$$

$$\begin{array}{r} ٤٦ \\ + \\ ١٦ \\ \hline \end{array}$$

$$\begin{array}{r} ٣٤ \\ + \\ ٣٤ \\ \hline \end{array}$$


أجمع .. ثم أكتب الناتج الصحيح




$$= 1 - 8$$



$$= 1 - 7$$




$$= 8 - 0$$



$$= 7 - 17$$




$$= 1 - 3$$




$$= 1 - 1$$




$$= 10 - 17$$



$$= 8 - 10$$



$$= 0 - 9$$



$$= 0 - 8$$

اطرح .. ثم اكتب الناتج



١٩

١٩

١٦

٥

١٠

١٠

٣٤

٤٣

١٩

٩١

< ، > ، = ضع علامة



www.shremarts.com

$$= \xi + \Lambda$$

$$= 1 + 0$$

$$= \xi + 17$$

$$= 3 + 70$$

$$= 0 + 10$$

$$= 1 + 7$$

اجمع .. ثم اكتب الناتج الصحيح



$$= 0 - 0$$

$$= 7 - 7$$


$$= 6 - 9$$

$$= 0 - 1$$


$$= 3 - 8$$

إطرح .. ثم أكتب الناتج الصحيح


٣٥ - ٥ - ٦٠ - ٦٣



٦١ - ٤١ - ٩ - ٤٣



٤٥ - ١٠ - ٥٣ - ٣



رتب الاعداد ترتيب تصاعدي

$$14 = \text{ } + 9$$

$$17 = \text{ } + 0$$

$$10 = \text{ } + 3$$

$$10 = \text{ } + 8$$

$$9 = \text{ } + 7$$

اكمل العملية الحسابية

