



اكتب الرقم السابق أو الاوسط أو التالي


0




5



2



1



ضع علامة > أو < أو =



٦ - ٧ - ١١


--	--	--

٣ - ٥ - ١

--	--	--

رتب الاعداد من الاصغر إلي الاكبر





+

=



+

=



+

=

اجمع الكميات واكتب الناتج



$$\begin{array}{|c|} \hline \bullet \bullet \bullet \\ \hline \bullet \bullet \bullet \\ \hline \end{array} + \begin{array}{|c|} \hline \bullet \bullet \\ \hline \bullet \bullet \\ \hline \end{array} = \square$$

$$\begin{array}{|c|} \hline \bullet \bullet \\ \hline \bullet \bullet \\ \hline \end{array} - \begin{array}{|c|} \hline \bullet \bullet \\ \hline \\ \hline \end{array} = \square$$

$$\begin{array}{|c|} \hline \bullet \bullet \\ \hline \bullet \bullet \\ \hline \end{array} + \begin{array}{|c|} \hline \bullet \bullet \\ \hline \bullet \\ \hline \end{array} = \square$$

$$\begin{array}{|c|} \hline \bullet \bullet \\ \hline \bullet \\ \hline \bullet \bullet \\ \hline \end{array} - \begin{array}{|c|} \hline \bullet \bullet \\ \hline \bullet \\ \hline \\ \hline \end{array} = \square$$



عد و حل المسائل حسب المطلوب



التالي	العدد	السابق
	٦	
١٥		
		١
	٨	
١٦		
		٩
		١٥
	١٣	
		٦
١٨		
	٤	

اكمل





مستطيل

مثلث

نجمه

دائره

مربع

صل الكلمة بالشكل المناسب





www.shremarts.com

$$\dots = 6 - 0$$

$$\dots = 4 - 9$$

$$\dots = 1 - 6$$

$$\dots = \square - 4$$

اطرح الارقام ثم اكتب الناتج الصحيح

١٠ _ ٦ _ ٩ _ ١١ _ ١٥

--	--	--	--	--

١١ _ ٥ _ ٣ _ ٩ _ ٧

--	--	--	--	--

٤ _ ٣ _ ٨ _ ١٥ _ ١٩

--	--	--	--	--

رتب الاعداد ترتيب تصاعدي



٤

$٣ + ٣$

١٠

$٦ + ٧$

٦

$١ + ٣$

٩

$٤ + ٨$

١٦

$١ + ٩$

٦

$١ + ٠$

اجمع الارقام ثم صل بالرقم الصحيح



$$(2) \quad (3) \quad (1) = \square + \square \square$$

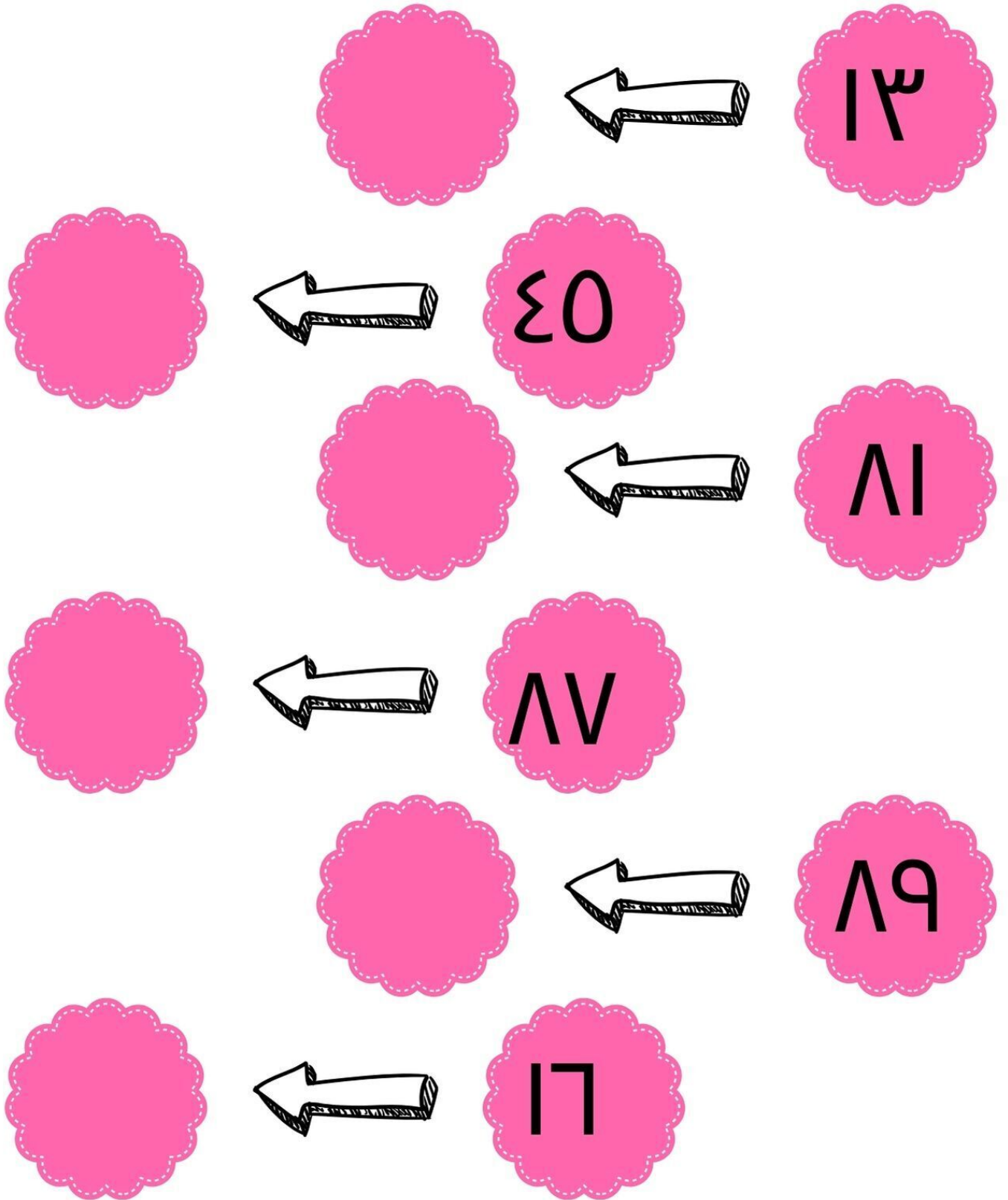
$$(7) \quad (9) \quad (8) = \begin{array}{c} \star \\ \star \star \end{array} + \begin{array}{cc} \star \star \\ \star \star \star \end{array}$$

$$(5) \quad (7) \quad (3) = \circ \circ + \circ \circ \circ$$

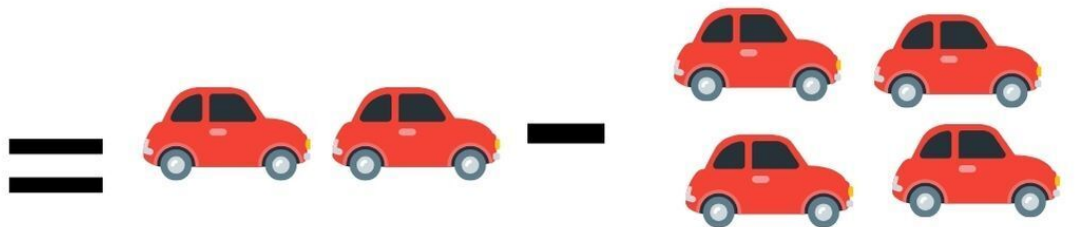


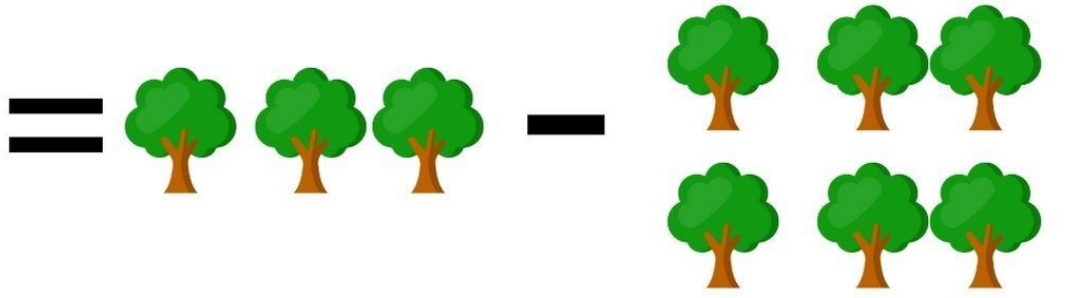
$$(1) \quad (9) \quad (6) = \triangle + \triangle$$

$$(10) \quad (4) \quad (6) = \heartsuit + \heartsuit \heartsuit \heartsuit$$

اجمع الاشكال ثم لون الناتج الصحيح



تعرف على رقم الاحاد ثم اكتبه



اطرح ثم اكتب الناتج الصحيح

$$٤ + ٤$$

$$٦$$

$$٠ + ٠$$

$$٣ + ٣$$

$$٤$$

$$٦ + ٤$$

$$١ + ٨$$

$$٨$$

$$٤ + ٠$$

$$٣ + ٦$$

$$٩$$

$$٦ + ٦$$




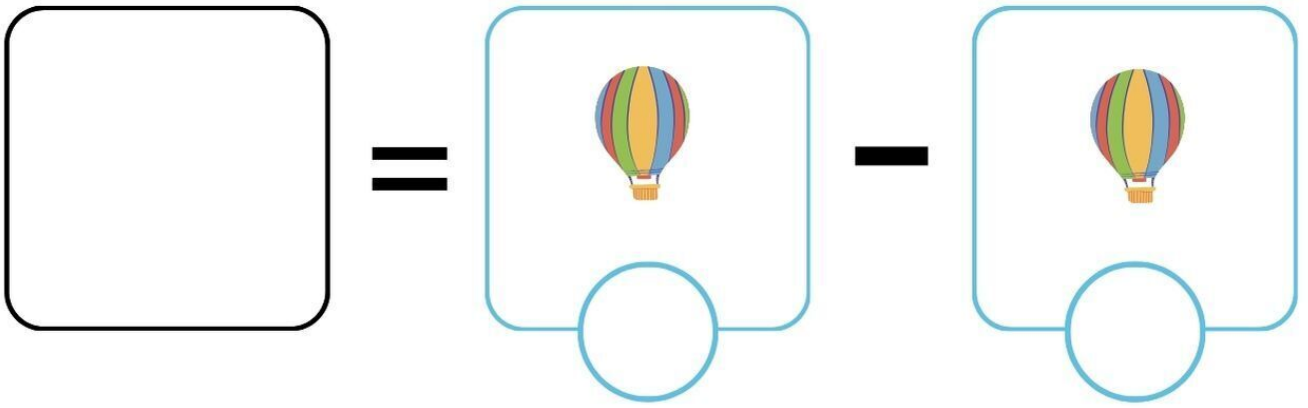
$$٠ + ٤$$

$$٠$$

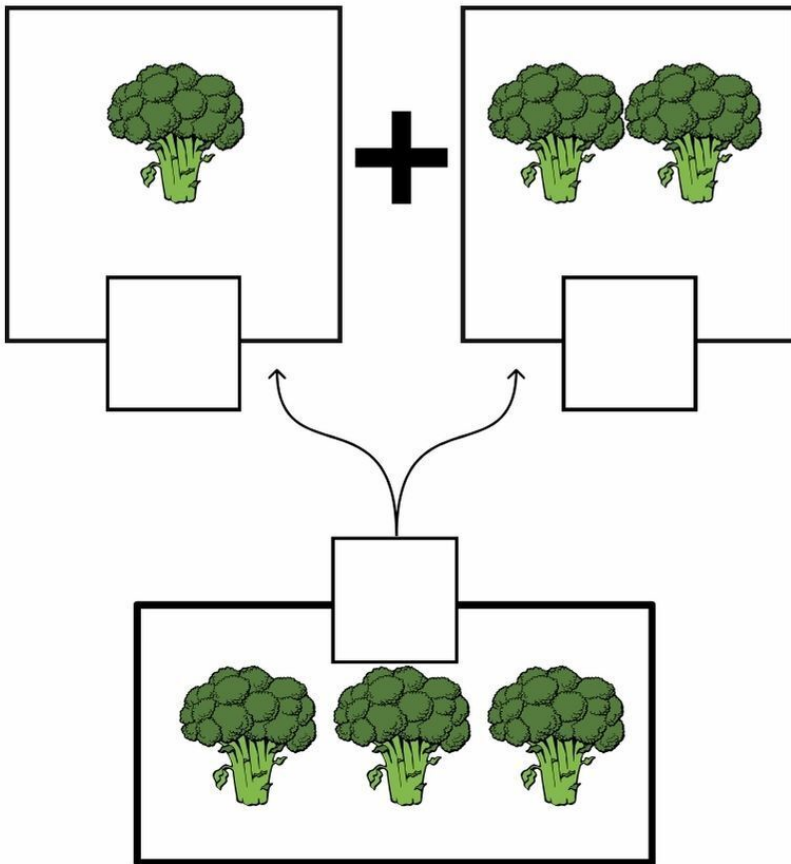
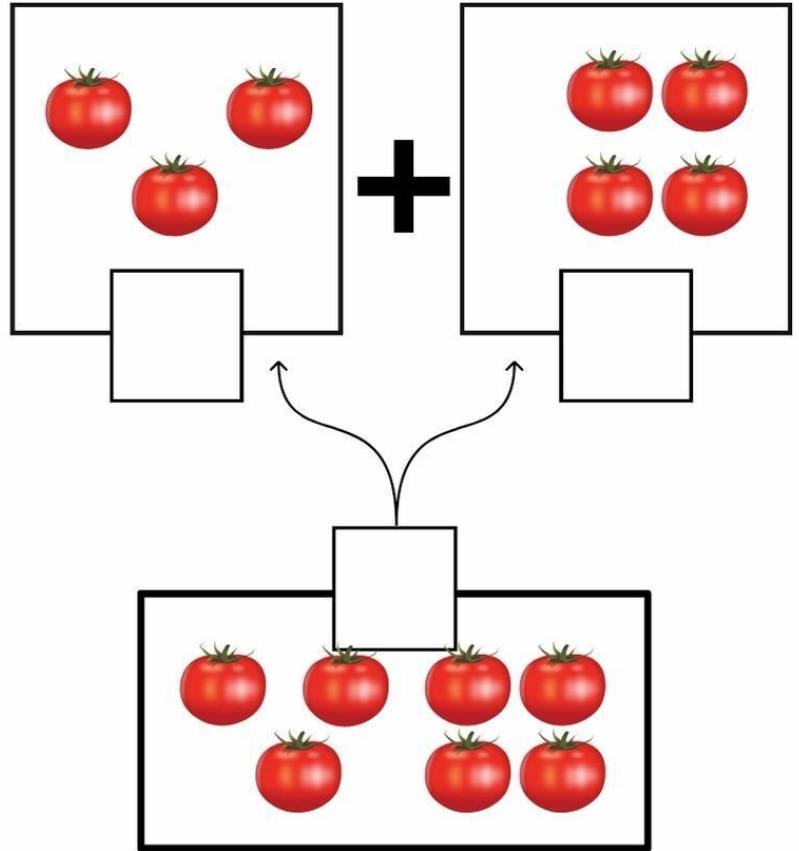
$$٠ + ٣$$




صل كل بطاقة بالعدد المناسب




اطرح الارقام ثم اكتب الناتج الصحيح





عد واجمع ثم اكتب الناتج الصحيح




=





+




=





+




=




+



=



+



اجمع ثم اكتب الناتج الصحيح

٦٥

٦٥

٥٠

٦٦

١

١

٣

٣

٦

٦

١٠

٥

٤

٧

٤٣

٣٤

٩٩

٩٩

١٠

١٠

٦٣



٣٦

٦٦

٦٥

ضع علامة > ، < ، =





عد الفواكة الموجودة على الشجر ثم اجمع

12 ○ 32

30 ○ 14

03 ○ 30

70 ○ 70

33 ○ 70

34 ○ 19

87 ○ 33

100 ○ 101

23 ○ 23

00 ○ 21

33 ○ 23


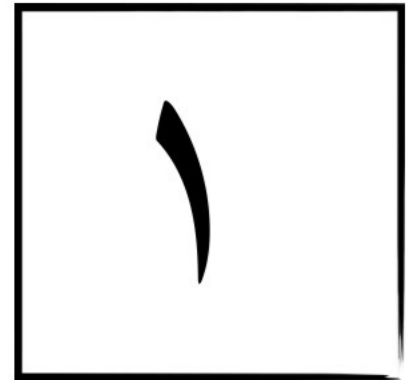







102 ○ 102

13 ○ 30

30 ○ 30



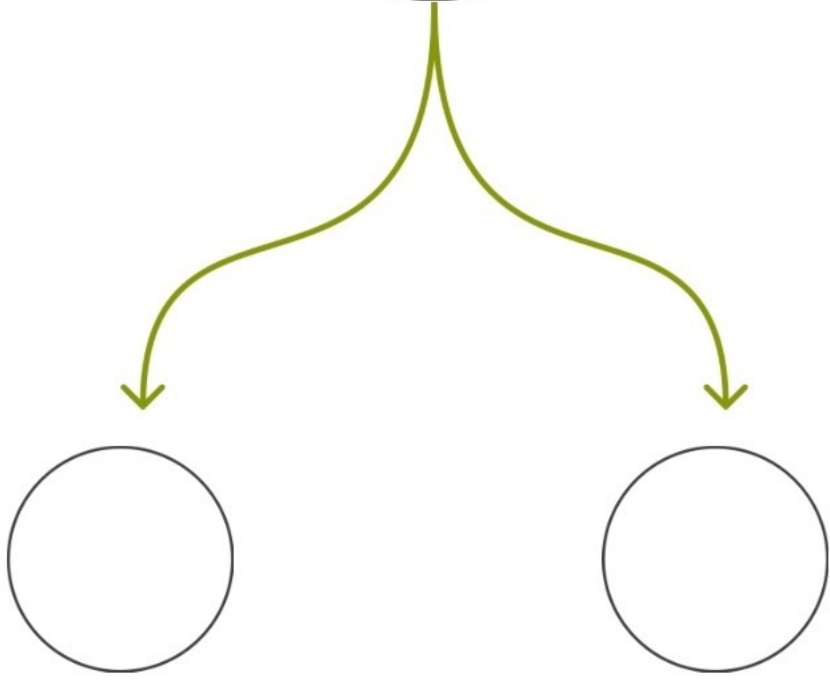
>, <, =



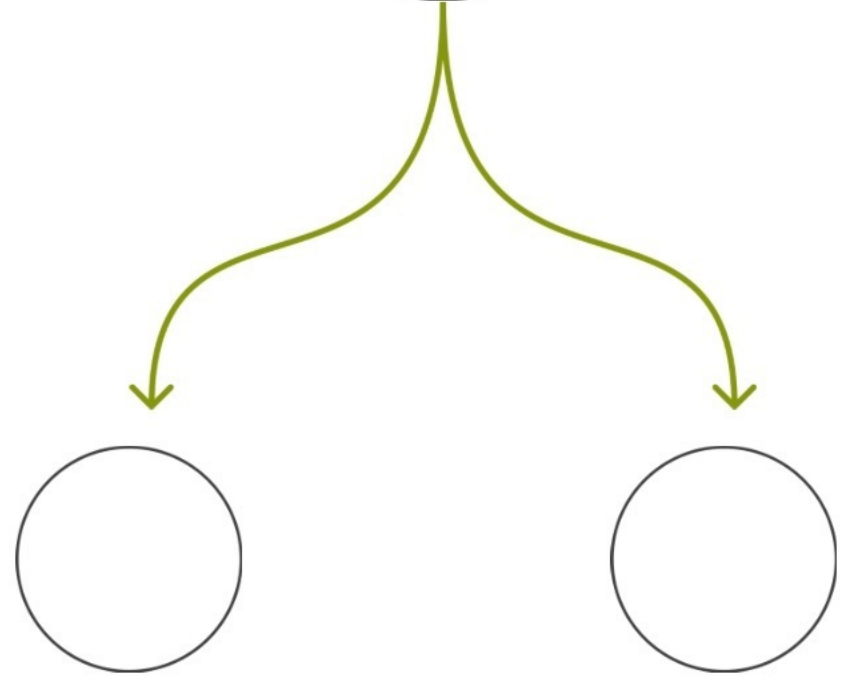
ضع الرقم المناسب



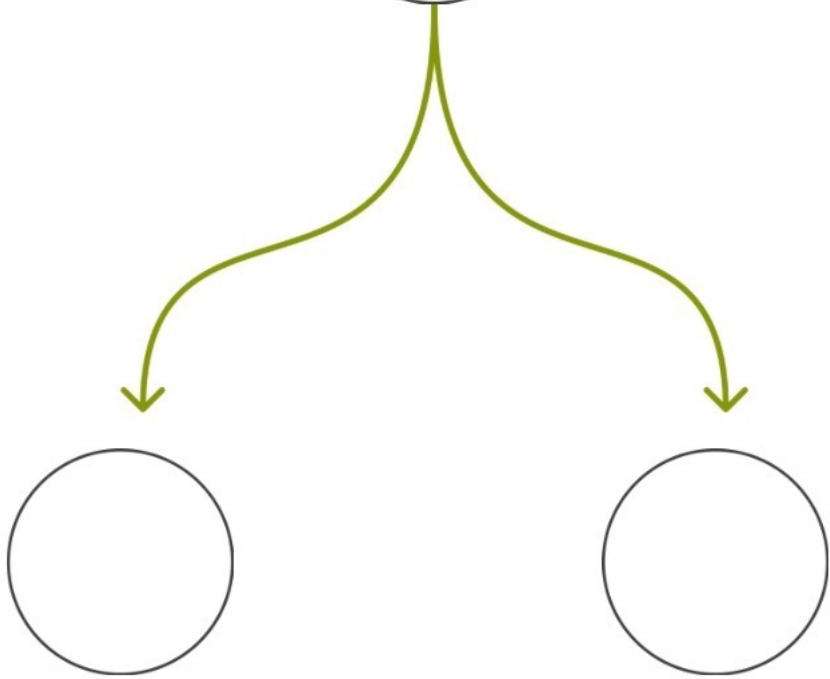
١٩



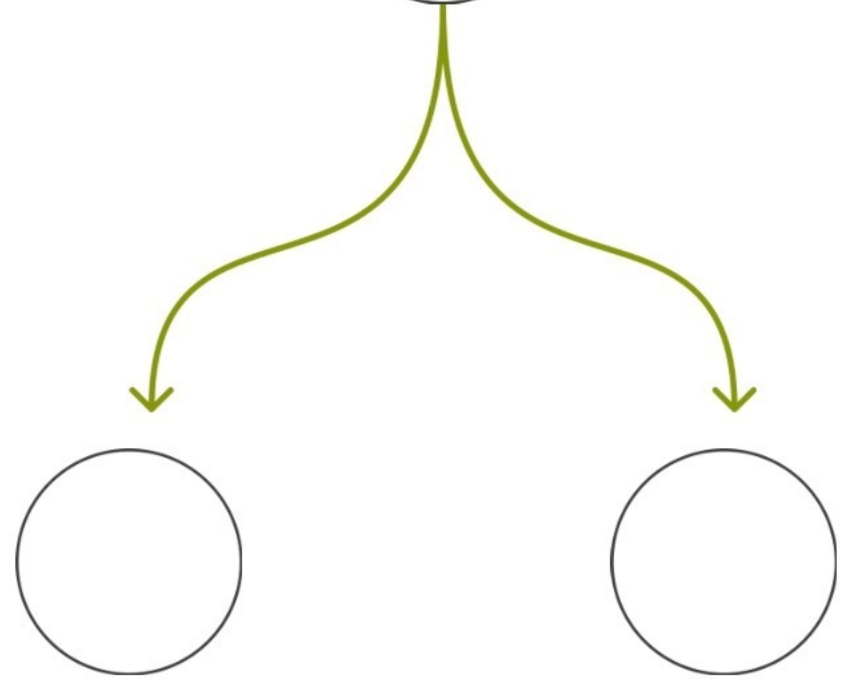
٣١



٦٣



١٦



قسم الاعداد الي احاد وعشرات



٩

١٧

٤



١٠

١٦

٥



١٩

٤٥

٦٠



رتب الاعداد ترتيبا تصاعديا



www.shremarts.com

10



٦٩



٦٦



١٩




٤٥




اكتب العدد السابق




www.shremarts.com




$$\square = 4 - 2$$



$$\square = 2 - 3$$






$$\square = 1 - 2$$



$$\square = 4 - 2$$

اطرح ثم اكتب الناتج الصحيح



ضع دائرة حول الرقم الاكبر



٦٧

٤٨

١٣

٣٧

٦٠

٣٩

١٦

٩ + ٣٠

٣ + ٣٤

٦ + ٤٦

٧ + ٦٠

٦ + ١٠

٤ + ٩

٠ + ١٠



اجمع ثم صل بالنتائج الصحيح

٤٣ - ٦٦ - ٦٣ - ٦٣ - ٥٥

--	--	--	--	--

٥٠ - ٨٠ - ٤٠ - ٩٧ - ١٠٠

--	--	--	--	--

٣٦ - ٨٨ - ٥٤ - ٩٦ - ٧٣

--	--	--	--	--

٥ - ١٠ - ٩٩ - ٨٩ - ٦٦

--	--	--	--	--



رتب الاعداد من الاصغر الي الاكبر