



< = >

4




3 + 0

3 + 0




9

10




01

0 + 0



2 + 8

3 - 0



1

ضع العلامة المناسبة



$$= 0 - 19$$

$$= 1 - 4$$

$$= 0 - 0$$

$$= 7 - 10$$

$$= 6 - 6$$

$$= 1 - 0$$

$$= 9 - 12$$

$$= 0 - 7$$

$$= 4 - 4$$

$$= 4 - 9$$

اطرح الاعداد ثم اكتب الناتج

١٣ ١٠ ٥

.....

>

٩



٧ ٤ ٨

.....

>

٦



٤ ٩ ١٠

.....

>

٩



٩ ٥ ٤

.....

=

٥



٤ ٩ ١٠

.....

>

٨



١٣ ٨ ٩

.....

>

١٠



١ ٣ ٧

.....


=

٣



اختر الاجابة المناسبة





٤

٤



١٠

١

٥


٥

٦

١٤

١٩

١٩



ضع علامة = ، < ، >





www.shremarts.com



٢٠	٧٦	٢٥	٣٤

٥٩	٦٤	٤١	٩٦



٥	١٧	٩٣	٥٤

رتب الاعداد ترتيب تنازلي



٧١

٨٥

٥٦

١٠٠



٦٣

٨٠

٦١

٥٩



١٣

٨٢

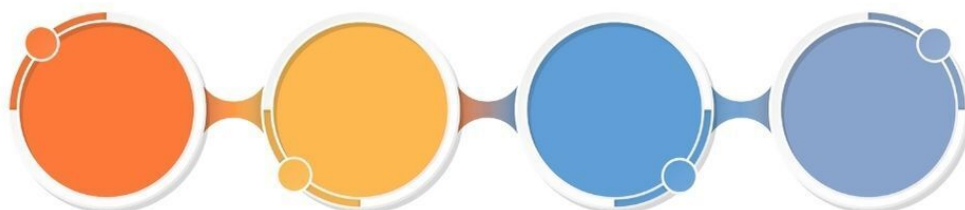
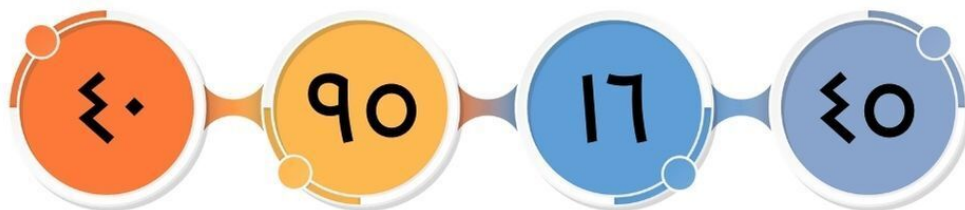
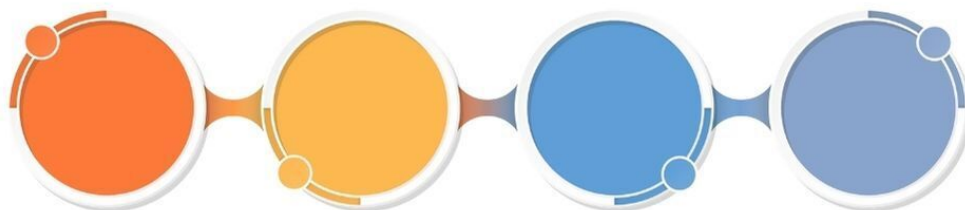
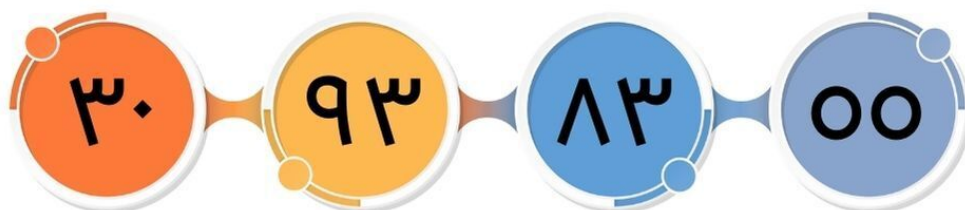
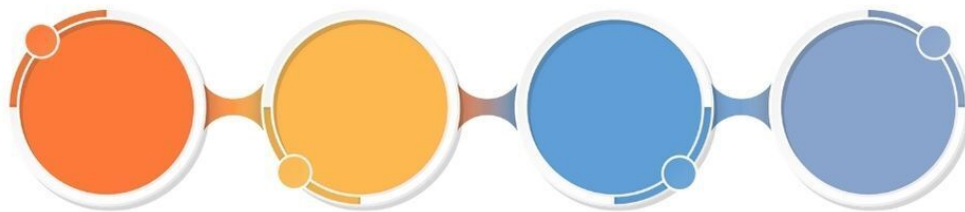

٤٥

٧٩



رتب الاعداد ترتيب تصاعدي





رتب الاعداد ترتيب تصاعدي

٨٧ ٤٣ ٥٠ ٦٦

٨٤ ٣٣ ١٩ ٦٥

٥٦ ٦٦ ٣٧ ٦٠

رتب الاعداد ترتيب تصاعدي



..... = ١٢ + ٤٠

..... = ٢٣ + ٦٠

..... = ١٠ + ٨٨

..... = ٠ + ٨١

..... = ١٠ + ٨٤

..... = ٦١ + ٧٣

..... = ٤١ + ٣٦

..... = ٢٤ + ٣٦

..... = ٤٤ + ٦٦

..... = ١٤ + ١٦

..... = ٢٤ + ٧٤

..... = ٤١ + ١٤

اجمع الاعداد ثم اكتب الناتج

٨ - ٥ - ٩ - ٦

.....

١٠ - ٤ - ٦ - ١

.....

٨ - ٧ - ٣ - ١

.....

٨ - ٧ - ٦ - ٦

.....

رتب الأرقام ترتيب تصاعدي



$$= ٢٦ + ٤١$$

$$= ٢٣ + ٥٦$$

$$= ٦٠ + ٤٠$$

$$= ٧٣ + ٣٦$$

$$= ١٤ + ٤٥$$

$$= ٨١ + ٢٩$$

$$= ٢١ + ٨٩$$

$$= ٤١ + ٤٨$$

أجمع الاعداد ثم اكتب الناتج



٨ - ٥ - ٩ - ٦

.....

١٠ - ٤ - ٦ - ١

.....

٨ - ٧ - ٣ - ١

.....

٨ - ٧ - ٦ - ٦

.....

رتب الأرقام ترتيب تنازلي



$$= 9 - 17$$



$$= 33 - 00$$



$$= 31 - 79$$



$$= 02 - 13$$



$$= 01 - 71$$



$$= 9 - 73$$



$$= 40 - 47$$



$$= 20 - 07$$



اجمع الأعداد ثم اكتب الناتج




٧ ٢ ٩ ٥



٢٠ ١٢ ٣٠ ١٤



١٥ ٤١ ١٣ ٩



٢٣ ١٠ ٣٦ ٥٩



رتب الاعداد ترتيب تصاعدي



٦٤



عشرات



آحاد

١٣



عشرات



آحاد

٢٩



عشرات



آحاد

٨٨



عشرات



آحاد

٥٠



عشرات



آحاد

أكتب قيمة العدد



$$\begin{array}{r} ٤١ \\ + \\ ٦٠ \\ \hline \end{array}$$

$$\begin{array}{r} ٥٤ \\ + \\ ٣٠ \\ \hline \end{array}$$

$$\begin{array}{r} ٨٣ \\ + \\ ١٤ \\ \hline \end{array}$$

$$\begin{array}{r} ٦٦ \\ + \\ ١٠ \\ \hline \end{array}$$

اجمع الاعداد ثم اكتب النتائج

$$\begin{array}{r} ٦٤ \\ ٣٦ + \\ \hline \end{array}$$

$$\begin{array}{r} ٥٥ \\ ٤١ + \\ \hline \end{array}$$

$$\begin{array}{r} ٤٥ \\ ٣١ + \\ \hline \end{array}$$

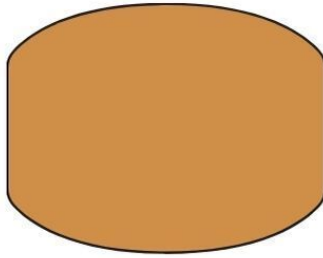
$$\begin{array}{r} ٦٣ \\ ٦٥ + \\ \hline \end{array}$$

$$\begin{array}{r} ٧٥ \\ ١٤ + \\ \hline \end{array}$$

$$\begin{array}{r} ٥٠ \\ ١٠ + \\ \hline \end{array}$$


اجمع الاعداد ثم اكتب الناتج

٤٤



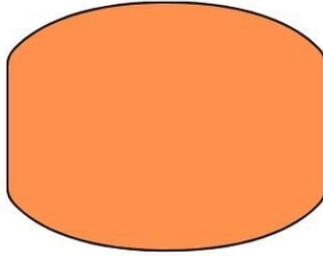
٤٤

٩٥




٨٤

٨٨



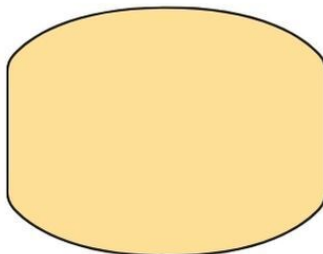
٦٨

٦٠




١٠

٣٧



٣٧

٦٧



٣٦

ضع علامة > أو < أو =



١٦

+

٦

٨

+

٦

٩

+

٠

١٩

+

٠

٠٦

+

٣١

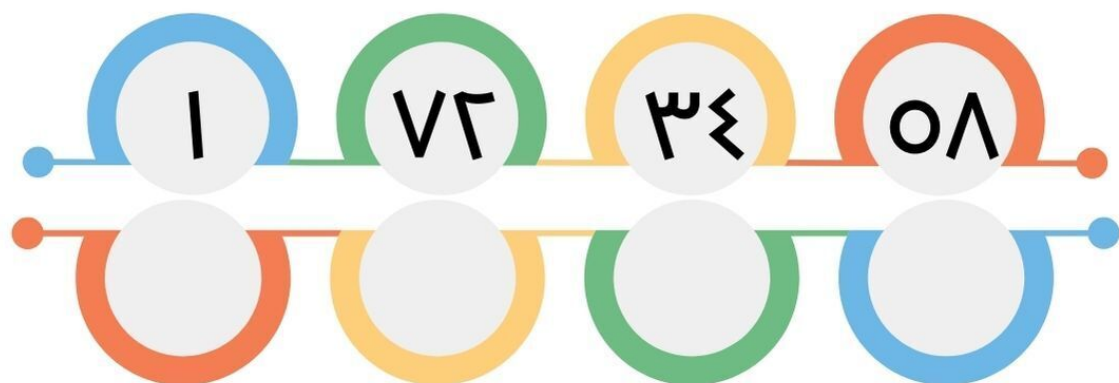
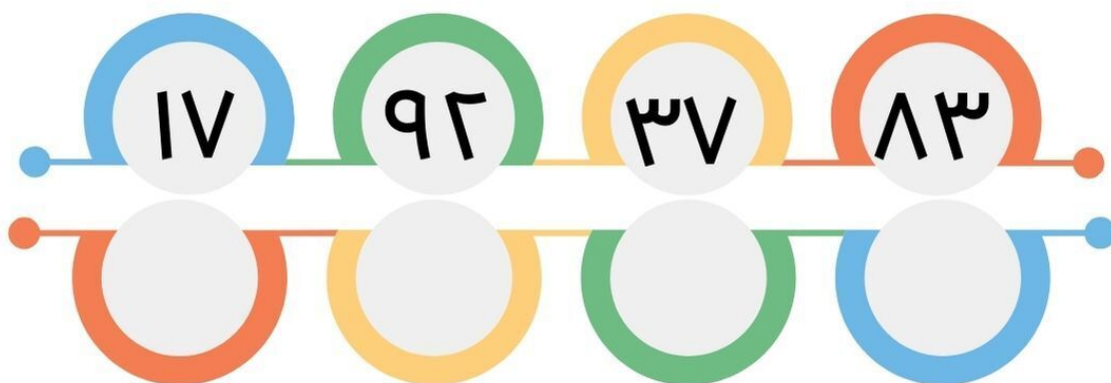
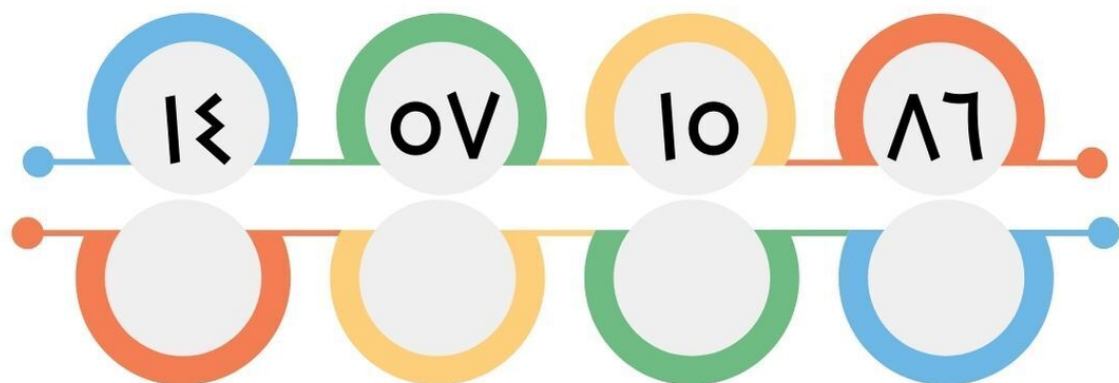
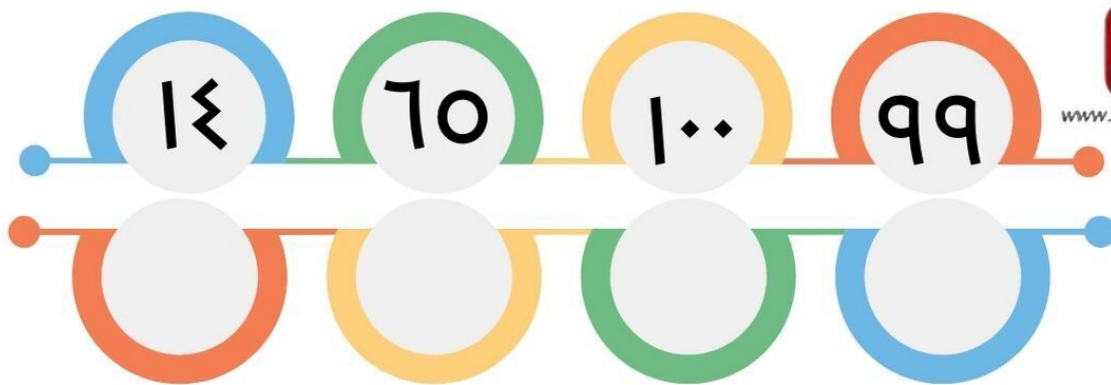
٤٠

+

٦١

اجمع الاعداد ثم اكتب الناتج





رتب الاعداد ترتيب تصاعدي



www.shremarts.com

9 71 30 10 12

Blank cards for practice



10 73 71 20 70

Blank cards for practice



17 33 07 28 11

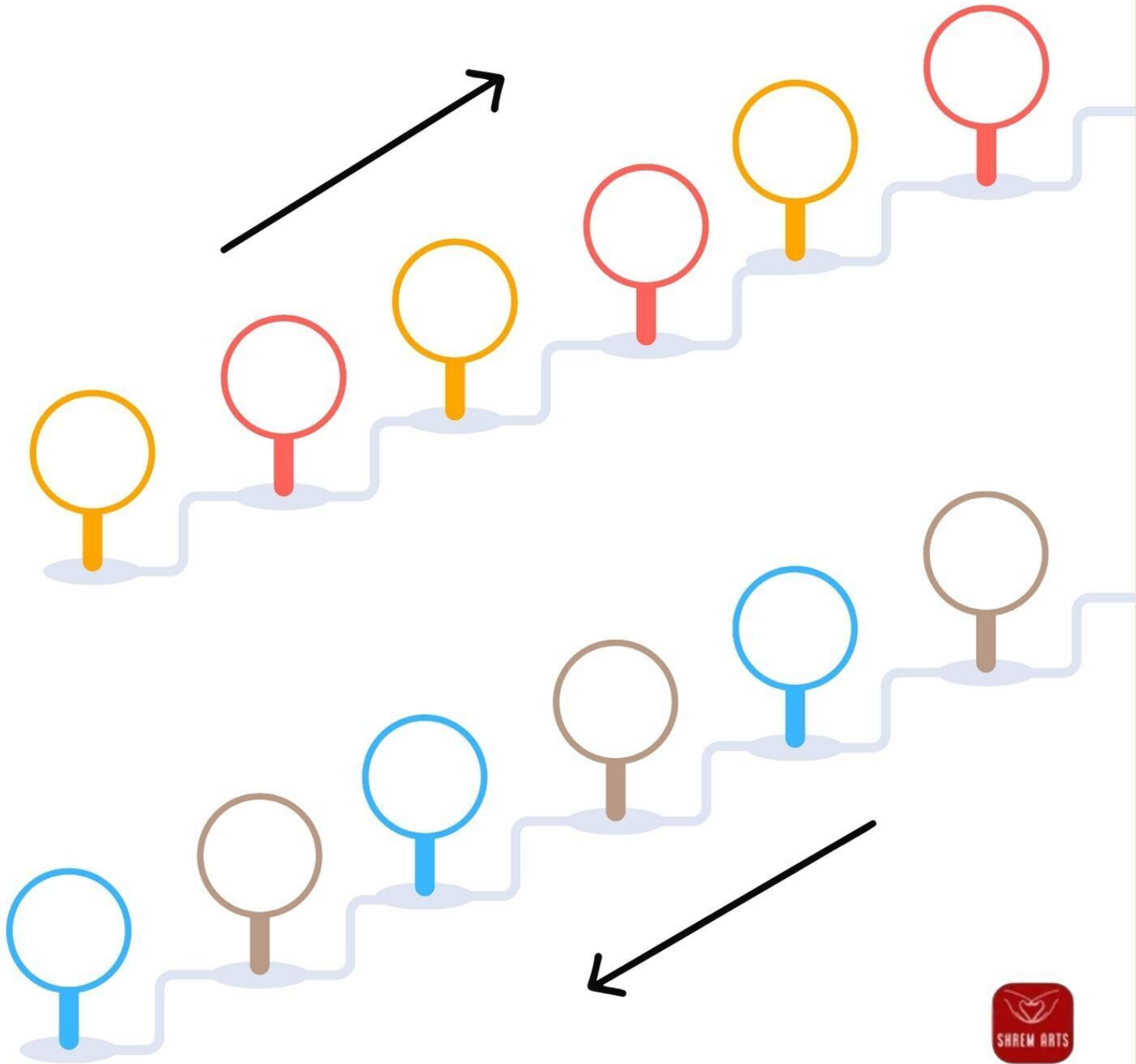
Blank cards for practice



رتب الاعداد ترتيب تنازلي



۱۱ . ۹۹ . ۷۴ . ۷۲ . ۳۰ . ۶۶



www.shremarts.com

رتب الاعداد ترتيب تصاعدي و ترتيب تنازلي

$$= 31 - 01$$

$$= 13 - 70$$

$$= 14 - 72$$

$$= 23 - 06$$

$$= 22 - 77$$

$$= 26 - 72$$

$$= 74 - 31$$

$$= 16 - 83$$

$$= 10 - 47$$

$$= 10 - 78$$

اشرح الاعداد ثم اكتب الناتج

٩٠ - ٨٣ - ١٤ - ٥٦

--	--	--	--

١٥ - ٨٩ - ٤١ - ١٦

--	--	--	--

٦١ - ١٠ - ٨٧ - ١٨

--	--	--	--

رتب الاعداد ترتيب تصاعدي

٦٥

١٦

٤

٦٤



٦

٧١

٩٣

٦٤



٧٤

١١

٥٥

٤١



رتب الاعداد ترتيب تنازلي



07

07




7

17



97

91



07

34



31

31

ضع علامة = ، < ، >